

# PHYSIQUE-CHIMIE

Durée de l'épreuve : **3 heures 30**

*L'usage de la calculatrice avec mode examen actif est autorisé.  
L'usage de la calculatrice sans mémoire, « type collègue » est autorisé.*

Dès que ce sujet vous est remis, assurez-vous qu'il est complet.  
Ce sujet comporte 13 pages numérotées de 1/13 à 13/13.

**Le candidat traite 3 exercices : l'exercice 1 puis il choisit 2 exercices parmi les 3 proposés.**

## EXERCICE 1 commun à tous les candidats (10 points)

### L'AQUARIUM RÉCIFAL

Depuis décembre 2019, le Parc Zoologique de Paris accueille un requin bambou. Il vit dans un aquarium qui cherche à reproduire l'environnement naturel de cette espèce.

Cet aquarium, dit récifal, est un bac marin destiné à héberger un écosystème très riche : coraux, crustacés et nombreux poissons tous originaires des eaux peu profondes des côtes de Madagascar. Cet écosystème est complexe et fragile. Plusieurs paramètres sont à contrôler pour maintenir l'équilibre du milieu et assurer le bien-être des différentes espèces vivantes qui y cohabitent.



Aquarium récifal MHN- F.-G. Grandin

Le but de cet exercice est d'étudier l'influence de certains de ces paramètres, pH et salinité, ainsi que des méthodes de traitement de l'eau.

#### Données à 25 °C :

- couples acide/base associés au dioxyde de carbone dissous ( $\text{CO}_2, \text{H}_2\text{O}$ )(aq) :  
 $(\text{CO}_2, \text{H}_2\text{O})(\text{aq})/\text{HCO}_3^-(\text{aq}) : pK_{A1} = 6,4 ;$   
 $\text{HCO}_3^-(\text{aq})/\text{CO}_3^{2-}(\text{aq}) : pK_{A2} = 10,3 ;$
- masse molaire atomique de l'ion chlorure :  $M(\text{Cl}^-) = 35,5 \text{ g}\cdot\text{mol}^{-1} ;$

- conductivités molaires ioniques :

Ion	$\text{Ag}^+$	$\text{NO}_3^-$	$\text{Na}^+$	$\text{Cl}^-$
$\lambda \text{ (mS}\cdot\text{m}^2\cdot\text{mol}^{-1})$	6,19	7,14	5,01	7,63

- numéros atomiques et électronégativités :

	Hydrogène	Carbone	Oxygène
Z (numéro atomique)	1	6	8
$\chi$ (électronégativité)	2,20	2,55	3,44

#### 1. Régulation de l'acidité

Dans un aquarium, le pH de l'eau est une grandeur à surveiller. Sa valeur doit rester proche d'une valeur optimale qui dépend des espèces vivantes présentes. Pour l'aquarium récifal, le pH optimal vaut 8,1.

En journée, la photosynthèse végétale augmente naturellement le pH, qui diminue ensuite pendant la nuit. Les différentes espèces vivantes de l'aquarium peuvent s'acclimater à des variations de la valeur du pH si elles restent faibles.

1.1. Indiquer ce qui peut être mis en œuvre si la valeur du pH devient trop élevée dans l'aquarium.

On peut considérer que l'eau de l'aquarium se comporte comme une solution tampon.

1.2. Citer les propriétés d'une solution tampon. Justifier l'utilisation d'une telle solution dans l'aquarium récifal.

Un diffuseur permet de réguler précisément la valeur du pH de l'aquarium en injectant au besoin du dioxyde de carbone à l'état gazeux dans l'aquarium.

Le dioxyde de carbone,  $\text{CO}_2(\text{g})$ , se dissout faiblement dans l'eau de l'aquarium. Il devient du dioxyde de carbone dissous ( $\text{CO}_2, \text{H}_2\text{O}$ )(aq) qui peut se dissocier partiellement en ions hydrogénocarbonate  $\text{HCO}_3^-(\text{aq})$  et en ions carbonate  $\text{CO}_3^{2-}(\text{aq})$ .



Diffuseur de  $\text{CO}_2$   
(<http://www.aquarium-aquariophilie.com>)

Le schéma de Lewis de la molécule de dioxyde de carbone et celui de la molécule d'eau sont donnés ci-dessous.

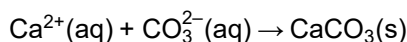
Molécule	$\text{O}=\text{C}=\text{O}$	$\text{H}-\text{O}-\text{H}$
Structure spatiale	linéaire	coudée

1.3. En s'appuyant notamment sur les électronégativités des atomes, justifier la faible solubilité du dioxyde de carbone dans l'eau.

1.4. Indiquer, parmi les espèces acido-basiques associées au dioxyde de carbone dissous, celles qui sont des acides de Brønsted et celles qui sont des bases de Brønsted.

1.5. En précisant la démarche suivie, indiquer, parmi les espèces acido-basiques associées au dioxyde de carbone dissous, celle(s) qui prédomine(nt) dans l'aquarium récifal.

Le squelette et la coquille des coraux sont constitués de calcaire, c'est-à-dire de carbonate de calcium  $\text{CaCO}_3(\text{s})$ , qui se forme suivant une transformation modélisée par l'équation de réaction suivante :



1.6. Expliquer pourquoi l'utilisation d'un diffuseur de  $\text{CO}_2$  dans l'aquarium peut freiner la formation du squelette et de la coquille des coraux.

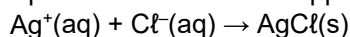
## 2. Contrôle de la salinité

Dans un aquarium, on trouve notamment des ions chlorure  $\text{Cl}^-(\text{aq})$  ainsi que des cations comme les ions sodium  $\text{Na}^+(\text{aq})$ .

La salinité de l'eau d'un aquarium est assimilée à la concentration en masse en ion chlorure  $\text{Cl}^-(\text{aq})$ . Celle de l'aquarium récifal doit être comprise entre 19,3 et 19,6  $\text{g}\cdot\text{L}^{-1}$ .

Pour contrôler la salinité de l'eau de l'aquarium étudié, on se propose de réaliser le titrage des ions chlorure. Pour cela, on prélève de l'eau de l'aquarium que l'on dilue d'un facteur 10, puis on titre 10,0 mL de cette solution à laquelle on a ajouté 200 mL d'eau distillée, par une solution de nitrate d'argent ( $\text{Ag}^+(\text{aq})$  ;  $\text{NO}_3^-(\text{aq})$ ) de concentration égale à  $5,00 \times 10^{-2} \text{ mol}\cdot\text{L}^{-1}$ .

Le titrage est suivi par conductimétrie. L'équation de la réaction support du titrage est :



On obtient la courbe de suivi du titrage de la figure 1.

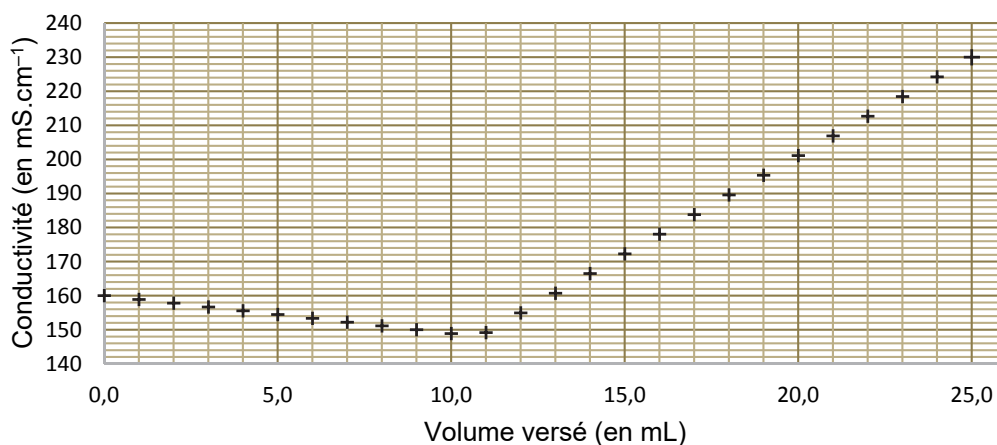


Figure 1. Conductivité de la solution en fonction du volume de solution de nitrate d'argent versé

2.1. Justifier qualitativement l'évolution de la pente de la courbe lors du titrage.

2.2. Indiquer si un traitement de l'eau est nécessaire à l'issue du contrôle de la salinité.

Le candidat est invité à prendre des initiatives et à présenter la démarche suivie même si elle n'a pas abouti. La démarche est évaluée et nécessite d'être correctement présentée.

### 3. Traitement des poissons contre les vers

L'aquarium récifal peut être infesté par différents types de vers qui parasitent les intestins, les branchies ou la peau des poissons. Pour assurer une élimination chimique de ces vers, les poissons doivent être momentanément placés dans un bassin de quarantaine dans lequel est ajouté un vermifuge.

Le praziquantel est une espèce chimique qui entre dans la composition d'un vermifuge utilisé en aquariophilie, vendu en animalerie en solution liquide, de concentration en masse de  $10,0 \text{ g}\cdot\text{L}^{-1}$ .

En 2010, un procédé de synthèse du praziquantel impliquant trois étapes a été proposé, ce qui le rend plus éco-responsable et moins onéreux. L'étape 1 conduisant à l'obtention de la molécule **A** n'est pas présentée ici.

3.1. L'étape 2, représentée ci-dessous, permet de transformer les réactifs **A** ( $\text{C}_9\text{H}_9\text{N}$ ), **B**, **C** et **D** ( $\text{C}_4\text{H}_{11}\text{O}_2\text{N}$ ) en produit **E** ( $\text{C}_{21}\text{H}_{32}\text{O}_4\text{N}_2$ ) et produit **F**.

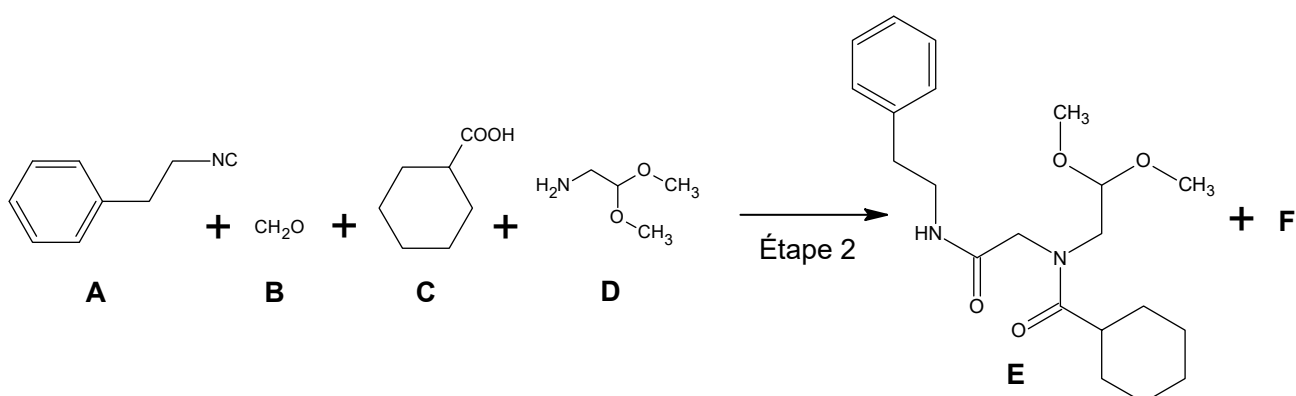
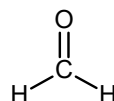


Figure 2. Équation de la réaction modélisant la transformation chimique de l'étape 2

La formule développée du réactif **B** est représentée ci-contre :



3.1.1. Justifier que la molécule **B** se nomme méthanal en nomenclature officielle.

3.1.2. Donner la formule semi-développée, puis brute du réactif **C**.

3.1.3. Déterminer le produit **F** formé à l'issue de l'étape 2 en s'appuyant sur les formules brutes des espèces chimiques mises en jeu.

La synthèse de 40,9 g de la molécule **E** nécessite 0,110 mol de chacun des réactifs **A**, **B**, **C** et **D**. La masse molaire moléculaire de **E** est  $M(\text{E}) = 376,5 \text{ g}\cdot\text{mol}^{-1}$ .

3.1.4. Déterminer le rendement de l'étape 2.

3.2. L'étape 3 permettant de synthétiser le praziquantel nécessite l'utilisation de l'acide méthylsulfonique, noté AMS. Cette étape comporte quatre opérations décrites ci-dessous.

- 30,0 g de **E** sont ajoutés à 104,0 mL d'AMS puis l'ensemble est chauffé pendant 6 heures à  $70^\circ\text{C}$ . La solution obtenue est versée dans de l'eau glacée ajustée à un pH égal à 8 avec une solution aqueuse d'hydroxyde de sodium.
- La solution est extraite quatre fois avec de l'éther diéthylique.
- La phase organique est lavée par 100 mL d'une solution aqueuse salée saturée. La phase organique est ensuite séchée. Après évaporation de l'éther diéthylique, on obtient un solide jaune.
- Ce résidu est recristallisé dans un mélange équimolaire d'acétate d'éthyle et d'hexane. On obtient un solide blanc.


D'après Dr. Haiping Cao Dr. Haixia Liu Prof. Alexander Dömling <https://doi.org/10.1002/chem.201002046>

**3.2.1.** Associer à chacune des opérations **a.** et **c.** du protocole un ou plusieurs des mots suivants :  
dissolution – séparation – purification – transformation chimique

**3.2.2.** Nommer une méthode d'identification possible pour le solide obtenu.

#### 4. Prévention des infections

Un aquariophile traite de manière préventive son aquarium contre les infections. Pour cela, il utilise une solution aqueuse antiseptique de bleu de méthylène. Le bleu de méthylène ( $C_{16}H_{18}CN_3S$ ) est un colorant faiblement biodégradable, de couleur bleue foncée. L'excès de bleu de méthylène est éliminé par des « filtres » à charbon actif.



Vue au microscope électronique des pores d'un grain de charbon actif

Le charbon actif est une poudre noire dont les pores, observables au microscope électronique, permettent notamment de fixer et retenir des molécules organiques. C'est le phénomène d'adsorption.

La capacité d'adsorption du charbon actif peut être évaluée à l'aide d'un dosage par étalonnage en suivant le protocole expérimental suivant :

- tracer la courbe d'étalonnage de l'absorbance, à  $\lambda = 650$  nm, pour des solutions étalon de bleu de méthylène ;
- mesurer l'absorbance d'un échantillon d'eau polluée en bleu de méthylène ;
- prélever un volume  $V$  de 50,0 mL d'eau polluée et y ajouter 100,0 mg de charbon actif ;
- agiter le mélange puis filtrer ;
- mesurer l'absorbance de la solution filtrée après traitement au charbon actif.

**4.1.** Justifier l'intérêt de l'étape de filtration.

*Pour les questions suivantes, le candidat est invité à prendre des initiatives et à présenter la démarche suivie même si elle n'a pas abouti. La démarche est évaluée et nécessite d'être correctement présentée.*

On applique le protocole précédent et on obtient les résultats suivants :

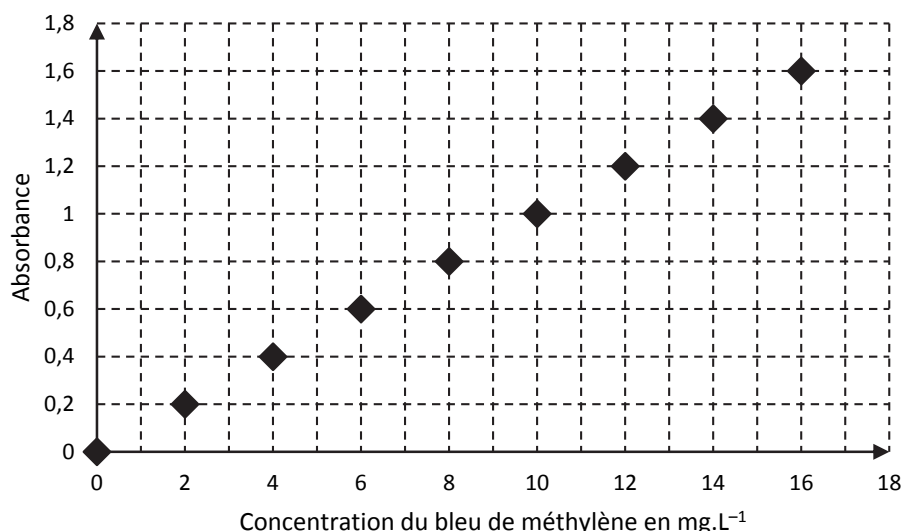


Figure 3. Absorbance en fonction de la concentration en bleu de méthylène, à  $\lambda = 650$  nm

Les valeurs d'absorbance obtenues avant et après traitement de l'eau de l'aquarium pour éliminer l'excès de bleu de méthylène sont  $A_{\text{polluée}} = 1,5$  et  $A_{\text{traitée}} = 0,2$ .

**4.2.** Montrer que la masse  $m_a$  de colorant adsorbée par gramme de charbon actif est voisine de 7 mg.

**4.3.** Sachant qu'un traitement préventif de l'aquarium, de volume  $V = 8\,000$  L, nécessite 1 à 2 mg de bleu de méthylène par litre d'eau, calculer la masse de charbon actif nécessaire afin de réaliser le traitement pour cet aquarium récifal. Commenter.

## EXERCICES au choix du candidat (5 points)

Vous indiquerez sur votre copie les 2 exercices choisis :  
exercice A ou exercice B ou exercice C

### EXERCICE A - UN SAUT STRATOSPHERIQUE


**Mot-clé : mouvement dans un champ de pesanteur uniforme**

Le 14 octobre 2012, Félix Baumgartner devient le premier homme à atteindre une vitesse égale à celle du son en s'élançant d'une capsule située dans la zone supérieure de la stratosphère.

L'objectif de cet exercice est de comprendre pourquoi il réalise un saut depuis la zone supérieure de la stratosphère pour atteindre la vitesse du son dans l'atmosphère.

**Données :**

- masse de Félix Baumgartner et de son équipement :  $m = 120 \text{ kg}$  ;
- altitudes limites de la stratosphère :  $z_{\min} = 11 \text{ km}$ ,  $z_{\max} = 50 \text{ km}$  ;
- altitude de la capsule au moment du saut :  $z_{\text{départ}} = 38\,969 \text{ m}$  ;
- intensité du champ de pesanteur à la surface de la Terre supposée sphérique de rayon  $R_T$  :  $g_0 = 9,81 \text{ m}\cdot\text{s}^{-2}$  ;
- rayon de la Terre :  $R_T = 6\,370 \text{ km}$  ;
- expression du champ de pesanteur terrestre en fonction de l'altitude :  $g(z) = \frac{g_0 \times R_T^2}{(R_T + z)^2}$  ;
- évolution de la norme de la vitesse du son  $v_{\text{son}}$  dans l'atmosphère en fonction de l'altitude :



D'après redbull.com

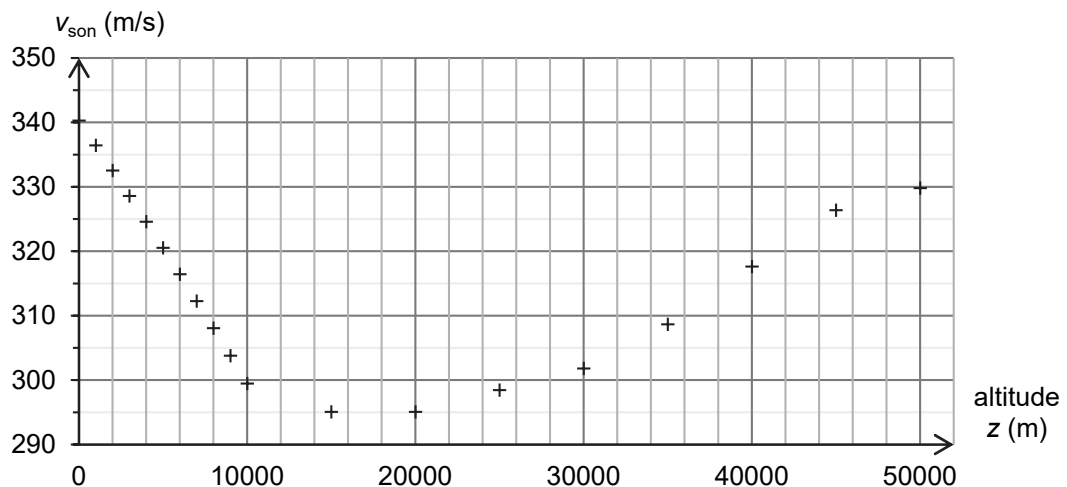


Figure 1. Vitesse du son en fonction de l'altitude

- norme  $f$  en N de la force de frottements due à l'air :  $f = 0,4 \times \rho_{\text{air}}(z) \times v^2$  avec :
  - $\rho_{\text{air}}(z)$  : masse volumique  $\rho_{\text{air}}$  de l'air à l'altitude  $z$  en  $\text{kg}\cdot\text{m}^{-3}$  ;
  - $v$  : vitesse du centre de masse de Félix Baumgartner en  $\text{m}\cdot\text{s}^{-1}$ .

#### 1. Influence de l'altitude sur le champ de pesanteur

1.1. Calculer la différence  $\Delta g$  entre les valeurs des champs de pesanteur aux limites de la stratosphère définie par :  $\Delta g = |g(z_{\max}) - g(z_{\min})|$ .

1.2. On considère que le champ de pesanteur est uniforme dans une zone de l'espace si sa variation par rapport à sa valeur à l'altitude  $z_{\max}$  est inférieure à 2 %. Le champ de pesanteur terrestre peut-il être considéré comme uniforme dans la stratosphère ?

Pour la suite de l'exercice, on prend pour valeur du champ de pesanteur  $g = 9,66 \text{ m}\cdot\text{s}^{-2}$ .

Le mouvement du centre de masse de Félix Baumgartner est étudié dans le référentiel terrestre supposé galiléen, l'axe des  $z$  est dirigé selon la verticale orientée vers le haut, l'origine  $O$  est prise au niveau du sol.

À la date  $t = 0 \text{ s}$ , Félix Baumgartner s'élance sans vitesse initiale. Son mouvement est supposé vertical.

- Établir, dans le cadre du modèle de la chute libre, l'équation horaire  $z(t)$  de l'altitude du centre de masse de Félix Baumgartner à la date  $t$  en fonction de  $t$ ,  $g$  et  $z_{\text{départ}}$ .
- En déduire, dans le cadre de ce modèle, l'altitude à laquelle la valeur de la vitesse de Félix Baumgartner est égale à  $307 \text{ m}\cdot\text{s}^{-1}$ .
- Indiquer, dans le cadre de ce modèle, en justifiant, si Felix Baumgartner a dépassé la vitesse du son lorsqu'il atteint cette altitude.

En réalité, Félix Baumgartner atteint une vitesse égale à celle du son à une altitude  $z_{\text{son}} = 33\,446 \text{ m}$ . On donne, sur la figure 2 ci-dessous, l'évolution de la masse volumique  $\rho_{\text{air}}$  de l'air dans la stratosphère pour des altitudes comprises entre 15 km et 50 km.

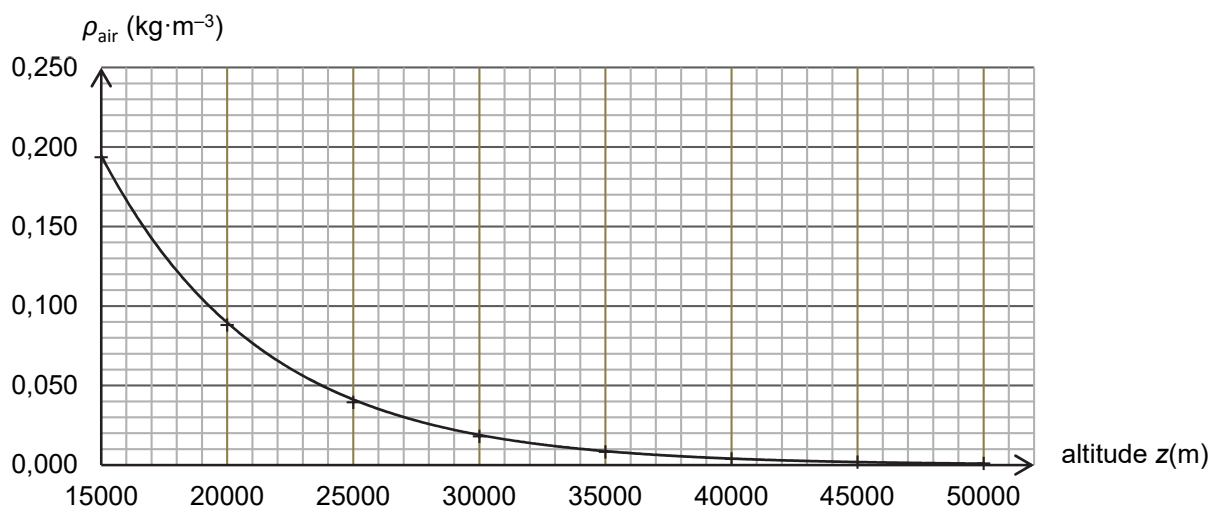


Figure 2. Masse volumique de l'air dans la stratosphère (entre 15 et 50 km) en fonction de l'altitude

- Comparer la norme de la force de frottement de l'air et la norme du poids lorsque Félix Baumgartner atteint la vitesse de  $307 \text{ m}\cdot\text{s}^{-1}$  à l'altitude de  $33\,446 \text{ m}$ . Critiquer le modèle de chute libre utilisé précédemment.

En raison de la force de frottement due à l'air, Félix Baumgartner atteint une vitesse limite lors du saut. La vitesse limite est la vitesse atteinte lorsque la norme de la force de frottement devient égale à celle du poids.

- Pour simplifier, on formule l'hypothèse que la vitesse limite est atteinte après  $4\,000 \text{ m}$  de chute. Calculer la valeur de la vitesse limite  $v_{\text{lim}}$  atteinte par Félix Baumgartner s'il s'était élancé d'une altitude  $z = 20\,000 \text{ m}$ .
- Expliquer qualitativement pourquoi il est nécessaire de s'élancer depuis la zone supérieure de la stratosphère pour atteindre une vitesse égale à celle du son.

## EXERCICE B - UN SYSTÈME DE DÉTECTION DE PASSAGER

### Mot-clé : modèle du circuit RC série

Pour renforcer la sécurité routière, les voitures sont équipées d'un système de détection de la présence d'un passager pour lui signaler si sa ceinture de sécurité est bien attachée.

Dans le cadre d'un projet scientifique, un groupe d'élèves réalise un système de détection semblable à celui d'une voiture. Il est composé d'un capteur de pression capacitif « artisanal » associé à un microcontrôleur.

Le condensateur « artisanal » est constitué de deux feuilles d'aluminium séparées par une feuille de papier isolante. Lorsqu'un objet de masse  $m$  est posé dessus, il exerce une pression sur les deux feuilles d'aluminium et les déforme, ce qui modifie la capacité électrique du condensateur « artisanal ». Après un traitement numérique des signaux électriques, le microcontrôleur peut détecter la présence de l'objet.



Figure 1. Schéma de l'installation d'un capteur capacitif dans l'assise d'un siège de voiture



Figure 2. Photographie d'une face du capteur de pression capacitif « artisanal »

L'objectif de cet exercice est d'illustrer le principe de fonctionnement d'un tel capteur.

### 1. Étude du capteur de pression capacitif « artisanal »

Le capteur de pression capacitif « artisanal » est représenté en coupe à la figure 3.

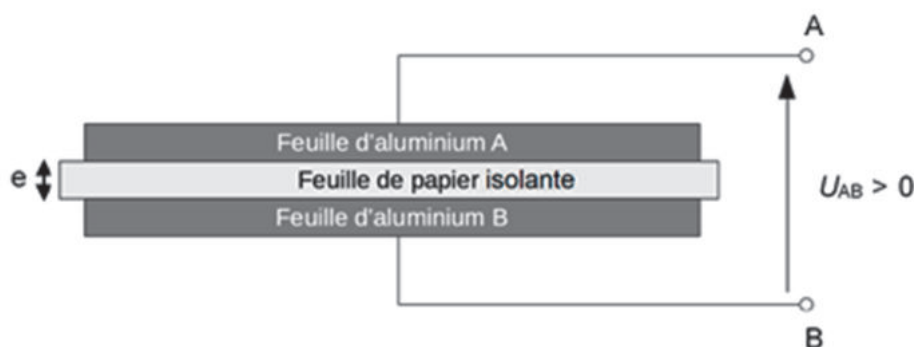


Figure 3. Schéma de la vue en coupe du capteur de pression « artisanal »

**1.1.** Justifier l'utilisation de l'adjectif « capacitif » dans l'expression « capteur de pression capacitif » couramment utilisée pour désigner ce genre de capteurs.

**1.2.** Si le capteur est soumis à une tension positive constante  $U_{AB}$  entre ses bornes A et B, des charges électriques apparaissent sur chacune des feuilles, notées  $Q_A$  sur la feuille d'aluminium A et  $Q_B$  sur la feuille d'aluminium B. On note  $C$  la capacité électrique de ce capteur. Donner l'expression littérale de la charge  $Q_A$  puis celle de la charge  $Q_B$  en fonction de  $C$  et  $U_{AB}$ .



1.3. La capacité électrique  $C$  d'un tel capteur s'écrit  $C = \frac{\epsilon \times S}{e}$  avec  $S$  la surface en regard des feuilles d'aluminium,  $e$  l'épaisseur de la feuille de papier isolante et  $\epsilon$  une constante caractéristique de la feuille de papier isolante. Indiquer, en justifiant la réponse, le sens de variation de la capacité électrique  $C$  du capteur quand un objet est posé sur le condensateur « artisanal ».

## 2. Modélisation du circuit de la chaîne de mesure

La détection de la variation de la capacité électrique  $C$  du capteur est réalisée par un circuit électrique appelé la chaîne de mesure. Le circuit électrique associé peut se modéliser par le circuit schématisé ci-après :

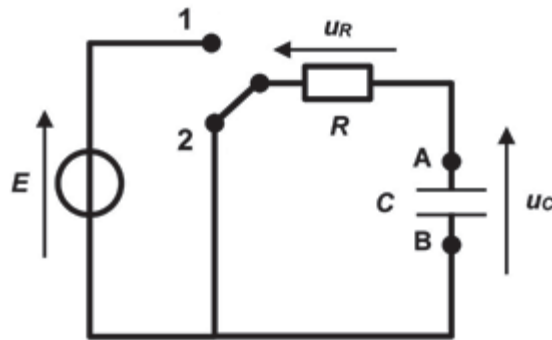


Figure 4. Schéma du circuit électrique

Le générateur de ce circuit est un générateur idéal de tension  $E$ . Le condensateur modélise le capteur de pression capacitif « artisanal » installé dans l'assise du siège du véhicule. La mesure de la tension aux bornes du condensateur, notée  $u_C(t)$ , est réalisée en permanence par un microcontrôleur qui n'est pas représenté sur le schéma. La résistance  $R$  est celle d'un conducteur ohmique. Le capteur de pression capacitif « artisanal » possède une capacité électrique  $C$  variable, selon que le capteur est soumis ou non à une pression extérieure. Le commutateur possède deux positions notées 1 et 2 et joue le rôle d'un interrupteur fermé sur la position 1 ou sur la position 2.

On considère que l'interrupteur est dans la position 1 depuis un temps très long, et que les paramètres  $E$ ,  $C$  et  $R$  sont constants. À la date  $t = 0$  s,  $u_C(0) = E$  et l'interrupteur est basculé dans la position 2.

2.1. Établir l'équation différentielle régissant l'évolution de la tension  $u_C(t)$  aux bornes du condensateur pour  $t \geq 0$  et l'écrire sous la forme :  $\frac{du_C(t)}{dt} + \frac{u_C(t)}{\tau} = 0$ . Exprimer  $\tau$  en fonction de  $R$  et  $C$ .

2.2. Vérifier que  $u_C(t) = A \times e^{-\frac{t}{\tau}}$  est solution de l'équation différentielle et exprimer  $A$  en fonction de  $E$ .

2.3. Montrer que le condensateur est déchargé à la date  $t = 5 \tau$ . On considère que le condensateur est déchargé lorsque la tension  $u_C(t)$  devient égale à 1% de sa valeur initiale.

## 3. Test expérimental de la chaîne de mesure

Pour tester cette chaîne de mesure qui permet de détecter la présence d'une pression exercée sur le capteur, on réalise le circuit étudié précédemment. La commutation est réalisée automatiquement par le microcontrôleur.

On réalise l'expérience suivante :




Figure 5. Dispositif sans pression




Figure 6. Dispositif avec pression

Un premier essai est conduit sans qu'aucune pression ne soit exercée sur le capteur (figure 5). Le microcontrôleur mesure la tension  $u_c(t)$  au cours du temps aux bornes du capteur capacitif. Un second essai est réalisé au cours duquel une masse (ici un verre rempli d'eau) est posée sur le capteur (figure 6). De nouveau, on mesure la tension  $u_c(t)$  au cours du temps aux bornes du capteur capacitif.

**Données :**

- tension du générateur idéal :  $E = 5 \text{ V}$  ;
- résistance du conducteur ohmique :  $R = 10 \text{ M}\Omega$  ;
- épaisseur de la feuille de papier isolante sans pression :  $e = 1,0 \times 10^{-4} \text{ m}$ .

Les séries de mesures, obtenues lors de ces deux essais, sont présentées sur le même graphique ci-dessous (figure 7). La date  $t = 0 \text{ s}$  correspond au passage du commutateur de la position 1 à 2 (figure 4).

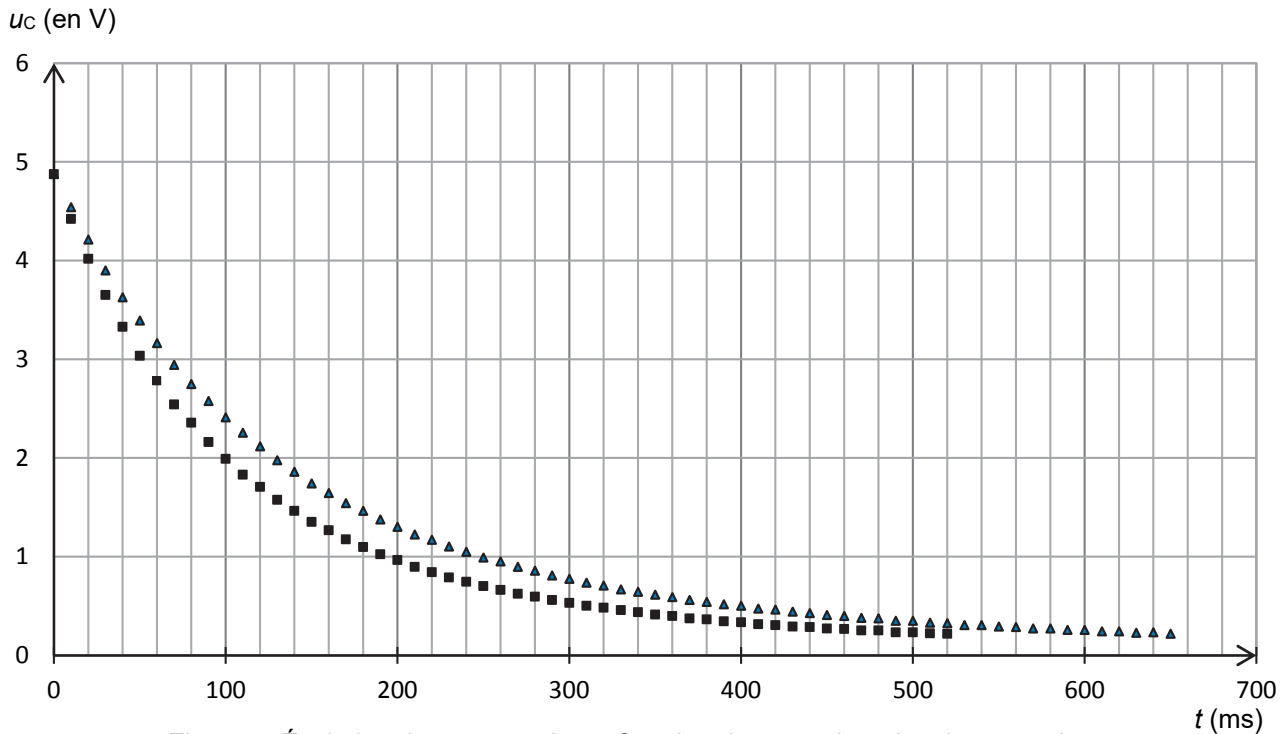


Figure 7. Évolution de  $u_c$  mesurée en fonction du temps lors des deux essais.

**3.1.** Parmi les deux séries de mesures précédentes, représentées soit par ▲ soit par ■, associer celle qui correspond au dispositif sans pression et celle qui correspond au dispositif avec pression. Justifier.

On considère que la variation de capacité électrique  $\Delta C$  est liée à la variation d'épaisseur  $\Delta e$  par la relation :

$$\frac{\Delta C}{C} = \frac{\Delta e}{e}$$

**3.2.** Déterminer la valeur de la variation d'épaisseur  $\Delta e$ , après avoir évalué la variation de capacité électrique  $\Delta C$ .

## EXERCICE C - QUELLE TAILLE POUR LES MAILLES D'UN TAMIS ?

### Mots-clés : diffraction et interférences d'ondes lumineuses

Les artémies (voir photo ci-contre) sont des crustacés élevés pour nourrir les poissons des aquariums. Leur taille doit être adaptée à l'espèce de poisson à nourrir. On utilise des tamis calibrés pour les sélectionner.

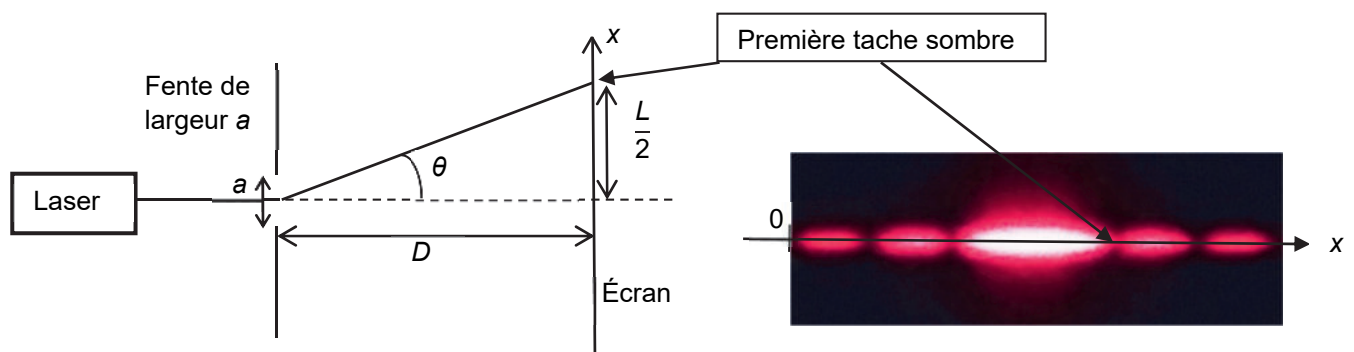
On se propose dans cet exercice de déterminer la taille des mailles d'un tamis en utilisant une diode laser de longueur d'onde  $\lambda = (650 \pm 10)$  nm.



Source :  
<https://fr.m.wikipedia.org>

### 1. Vérification de la valeur de la longueur d'onde de la diode laser utilisée

Pour vérifier la valeur de la longueur d'onde de la diode laser annoncée par le constructeur, on réalise une expérience dont le schéma est donné ci-dessous (figure 1).



Distance fente – écran :  $D = 56$  cm  
Largeur de la fente calibrée :  $a = 80$   $\mu$ m

Figure 2. Figure observée sur l'écran

Figure 1. Schéma de l'expérience (échelle non respectée)

1.1. Nommer le phénomène physique responsable des taches lumineuses observées sur l'écran. Discuter qualitativement de l'influence de la largeur de la fente et de la longueur d'onde de l'onde incidente sur le phénomène observé.

1.2. On rappelle que l'angle  $\theta$  est donné par la relation  $\theta = \frac{\lambda}{a}$  et on considère que  $\tan \theta \approx \theta$  pour les petits angles ( $\theta \ll 1$  rad). Déterminer l'expression de l'angle  $\theta$  en fonction de la largeur  $L$  de la tache centrale et de  $D$ . En déduire l'expression de la longueur d'onde  $\lambda$  en fonction de  $L$ ,  $a$  et  $D$ .

Pour faire une mesure précise, on remplace l'écran par une caméra qui permet d'obtenir l'intensité lumineuse relative\* en fonction de la position  $x$ , repérée selon l'axe indiqué sur la photo de la figure 2. L'origine  $x = 0$  m est prise sur le bord du capteur de la caméra. On obtient alors la figure 3.

\* L'intensité lumineuse relative est le rapport de l'intensité lumineuse reçue par le capteur sur l'intensité maximale reçue.

1.3. Déterminer la valeur de la longueur d'onde de la diode laser utilisée en exploitant la courbe obtenue sur la figure 3. La comparer à la valeur indiquée par le constructeur.

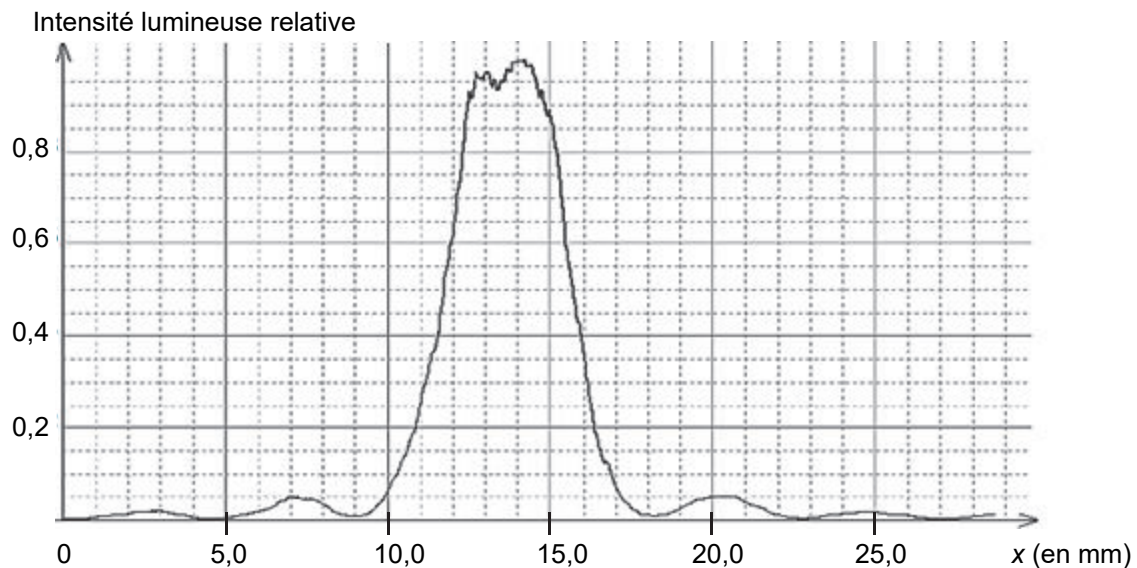


Figure 3. Intensité lumineuse relative en fonction de la position sur l'écran

## 2. Calibrage du tamis de récupération

Le but de cette partie est de vérifier que le tamis disponible, dont le maillage est représenté sur la figure 5, permet de récupérer toutes les artémies d'une taille supérieure à  $150\ \mu\text{m}$ . On réalise une expérience d'interférences pour évaluer les dimensions du tamis en utilisant la diode laser précédente. La largeur du fil plastique constituant le tamis est égale à  $230\ \mu\text{m}$ .

L'expérience d'interférences est décrite ci-dessous :

- le montage utilisé est donné sur la figure 4 ;
- on utilise la diode laser de longueur d'onde  $\lambda = (650 \pm 10)\ \text{nm}$ . La distance entre le tamis et l'écran vaut  $D = (7,75 \pm 0,03)\ \text{m}$  ;
- on note  $b$  la distance entre les centres de deux trous consécutifs du maillage du tamis ;
- la figure d'interférences obtenue est donnée sur les figures 6 et 7.

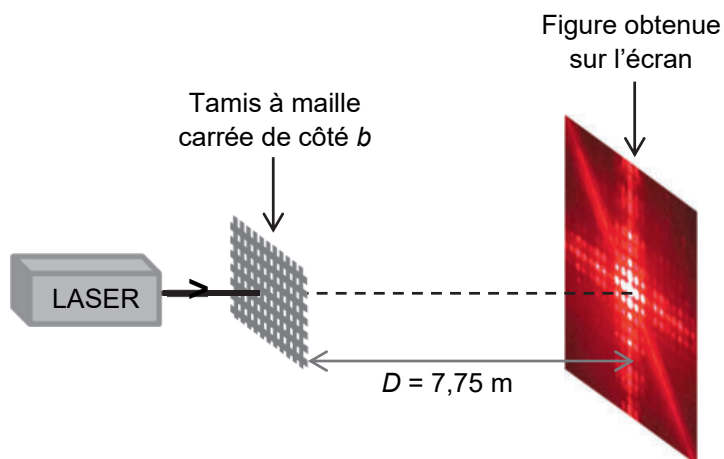


Figure 4. Montage utilisé (échelle non respectée)

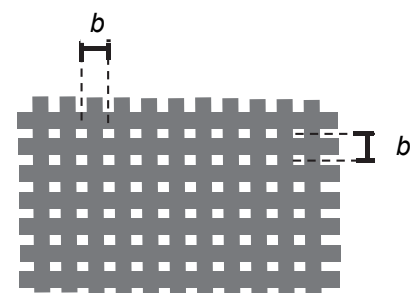


Figure 5. Schéma du maillage du tamis




Figure 6. Figure d'interférences obtenue




Figure 7. Tache centrale de la figure d'interférences à l'échelle 1/1

**2.1.** Expliquer brièvement, sans calcul, l'origine de la présence de zones sombres et de zones brillantes dans une figure d'interférences lumineuses.

Le centre de la figure d'interférences de la figure 6 est représenté sur la figure 7 ci-dessus à l'échelle 1/1. L'interfrange, noté  $i$ , est défini comme la distance entre les centres de deux taches lumineuses successives selon l'axe identifié sur la figure 7.

L'expression de l'interfrange est donnée par la relation :  $i = \frac{\lambda \times D}{b}$ .

L'incertitude-type  $u(b)$  sur la grandeur  $b$  peut se calculer à partir de la relation :

$$\frac{u(b)}{b} = \sqrt{\left(\frac{u(D)}{D}\right)^2 + \left(\frac{u(i)}{i}\right)^2 + \left(\frac{u(\lambda)}{\lambda}\right)^2}$$

où  $u(x)$  désigne l'incertitude-type associée à la grandeur  $x$

**2.2.** Évaluer la valeur de l'interfrange  $i$  en explicitant la méthode suivie pour obtenir la meilleure précision. Évaluer l'incertitude-type  $u(i)$  sur la mesure de l'interfrange  $i$ .

**2.3.** Calculer  $b$  puis évaluer  $u(b)$ .

**2.4.** Indiquer si le tamis étudié permet de récupérer les artémies voulues. Justifier.